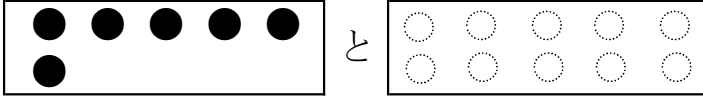


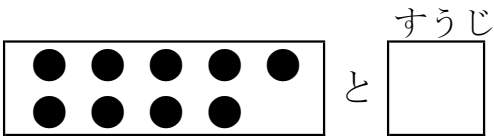
いくつといくつ③

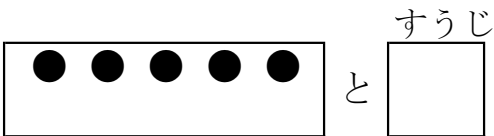
ねん くみ なまえ

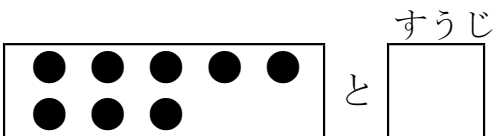
◆ 10は いくつと いくつでしょう。

①  と

②  と

③  と

④  と

⑤  と

◆ 10は いくつと いくつでしょう。

⑥ と

⑦ と

⑧ と

⑨ と

⑩ と