

ねん くみ なまえ

1 あかい はなは, あおい はなより いくつ おおいですか。

あか



あお




しき

こたえ

つ

2 えんぴつは, けしごむより いくつ おおいですか。



しき

こたえ

つ

3 たぬきは, きつねより なんびき おおいでしょう。




しき

こたえ

ひき

4 おんなのこは おとこのこより なんにん おおいですか。



しき

こたえ

にん

のこりはいくつ ちがいはいくつ⑦

No. _____

ねん くみ なまえ 答え

1 あかい はなは, あおい はなより いくつ おおいですか。

あか



あお



しき

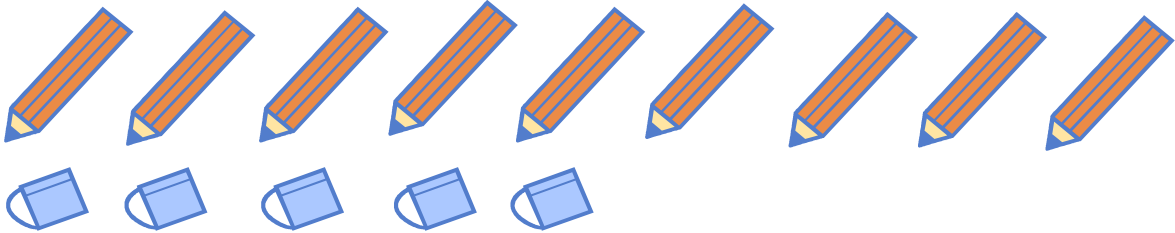
$$7 - 4 = 3$$

こたえ

3

つ

2 えんぴつは, けしごむより いくつ おおいですか。



しき

$$9 - 5 = 4$$

こたえ

4

つ

3 たぬきは, きつねより なんびき おおいでしょう。



しき


$$5 - 3 = 2$$

こたえ

2

ひき

4 おんなのこは おとこのこより なんにん おおいですか。



しき

$$7 - 3 = 4$$

こたえ

4

にん