


のこりはいくつ ちがいはいくつ⑨

No. _____

ねん くみ なまえ

1 ケーキと さらの かずの ちがいは いくつですか。




しき

こたえ

つ

2 フォークと スプーンの かずの ちがいは いくつですか。



しき

こたえ

つ

3 うさぎと りすの かずの ちがいは なんびきですか。




しき

こたえ

びき

4 おとこのこと おんなのこの かずの ちがいは なんにん
ですか。



しき

こたえ


にん

のこりはいくつ ちがいはいくつ⑨

No. _____

ねん くみ なまえ **答え**

1 ケーキと さらの かずの ちがいは いくつですか。



しき


$$6 - 4 = 2$$

こたえ

2

つ

2 フォークと スプーンの かずの ちがいは いくつですか。



しき

$$7 - 3 = 4$$

こたえ

4

つ

3 うさぎと りすの かずの ちがいは なんびきですか。



しき

$$6 - 5 = 1$$

こたえ

1

びき


4 おとこのこと おんなのこの かずの ちがいは なんにん

ですか。

おとこのこ



おとこのこ



しき

$$5 - 2 = 3$$

こたえ

3

にん