

たしざん①

No. \_\_\_\_\_

ねん くみ なまえ \_\_\_\_\_

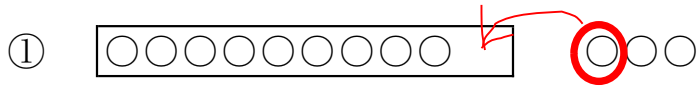
1 けいさんを しましょう。

①  $9 + 1 + 1$

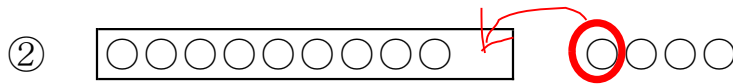
②  $9 + 1 + 4$

③  $9 + 1 + 6$

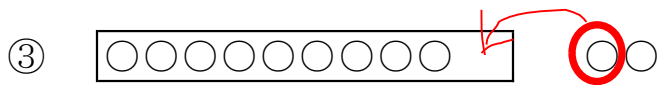
2 けいさんを しましょう。



$9 + 3 = \square$



$9 + 4 = \square$



$9 + 2 = \square$

3 けいさんを しましょう。

①  $9 + 5 = \square$

②  $9 + 6 = \square$

③  $9 + 7 = \square$

④  $9 + 8 = \square$

たしざん①

No. \_\_\_\_\_

ねん くみ なまえ \_\_\_\_\_

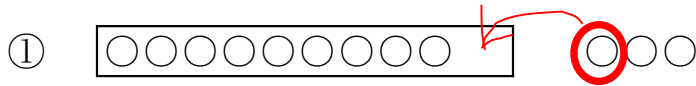
1 けいさんを しましょう。

①  $9 + 1 + 1 = 11$

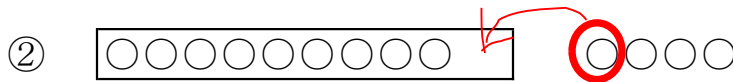
②  $9 + 1 + 4 = 14$

③  $9 + 1 + 6 = 16$

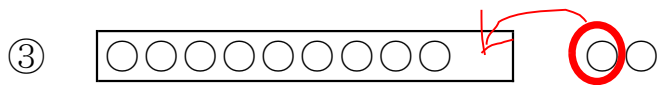
2 けいさんを しましょう。



$9 + 3 = 12$



$9 + 4 = 13$



$9 + 2 = 11$

3 けいさんを しましょう。

①  $9 + 5 = 14$

②  $9 + 6 = 15$

③  $9 + 7 = 16$

④  $9 + 8 = 17$