

たしざん②

No. _____

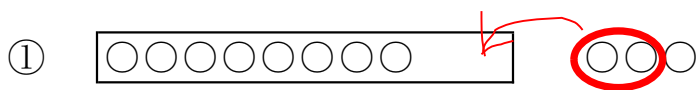
ねん くみ なまえ _____

1 けいさんを しましょう。

① $8 + 2 + 3$

② $8 + 2 + 7$

2 けいさんを しましょう。

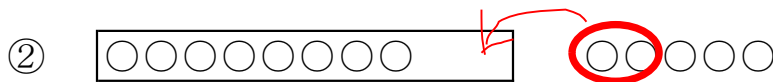


けいさんの しかた

8 に を たして 10。

10 と で 。

$8 + 3 = \square$



$8 + 5 = \square$

3 けいさんを しましょう。

① $8 + 4 = \square$

② $8 + 6 = \square$

③ $8 + 7 = \square$

④ $8 + 8 = \square$

たしざん②

No. _____

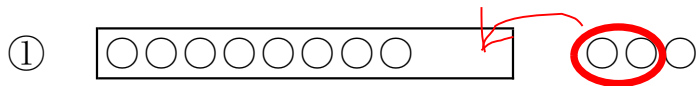
ねん くみ なまえ _____

1 けいさんを しましょう。

① $8 + 2 + 3 = 13$

② $8 + 2 + 7 = 17$

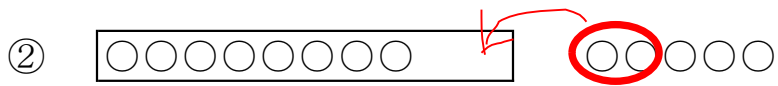
2 けいさんを しましょう。



けいさんの しかた

8 に を たして 10。
10 と で 。

$8 + 3 = \text{$



$8 + 5 = \text{$

3 けいさんを しましょう。

① $8 + 4 = \text{$

② $8 + 6 = \text{$

③ $8 + 7 = \text{$

④ $8 + 8 = \text{$