

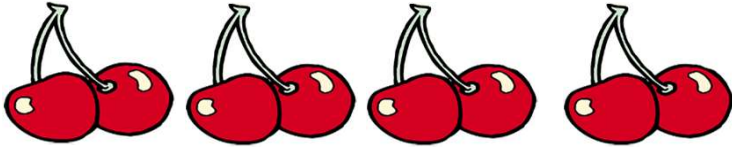
# かけ算②

年 組 名前 \_\_\_\_\_

◆かけ算の ばめんを しきに 書きましょう。

答えは かかなくて けっこうです。

① さくらんぼは ぜんぶで いくつありますか。




かけ算の しき

② ギョーザは みんなで いくつありますか。



かけ算の しき

③ ビスケットは ぜんぶで いくつありますか。



かけ算の しき

④ みんなで 何人 いるでしょう。



かけ算の しき

## かけ算②

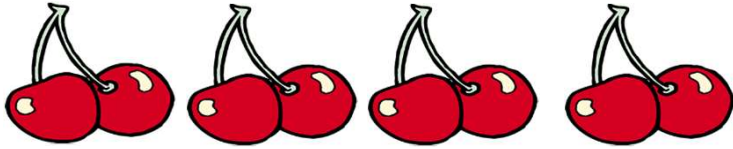
No. 1

名前                      答え                     

◆かけ算の ばめんを しきに 書きましょう。

答えは かかなくて けっこうです。

① さくらんぼは ぜんぶで いくつありますか。



かけ算の しき

$$2 \times 4$$


② ギョーザは みんなで いくつありますか。



かけ算の しき

$$5 \times 3$$

③ ビスケットは ぜんぶで いくつありますか。



かけ算の しき

$$6 \times 3$$

④ みんなで 何人 いるでしょう。



かけ算の しき

$$4 \times 5$$