




ばいと かけ算①

年 組 名前 \_\_\_\_\_


- ◆ アの テープの 4 つぶんの 長さに, 色を ぬり  
ましょう。






- ◆ イの テープの 2 つぶんの 長さに, 色を ぬり  
ましょう。



- ◆ ウの テープの 6 つぶんの 長さに, 色を ぬり  
ましょう。



- ◆ エの テープの 4ばいの 長さの テープは,  
①~③のうち どれですか。




答え


ばいと かけ算①

年 組 名前 \_\_\_\_\_


- ◆ アの テープの 2 つぶんの 長さに, 色を ぬり  
ましょう。





- ◆ イの テープの 4 つぶんの 長さに, 色を ぬり  
ましょう。



- ◆ ウの テープの 7 つぶんの 長さに, 色を ぬり  
ましょう。



- ◆ エの テープの 4ばいの 長さの テープは,  
①~③のうち どれですか。



答え

③