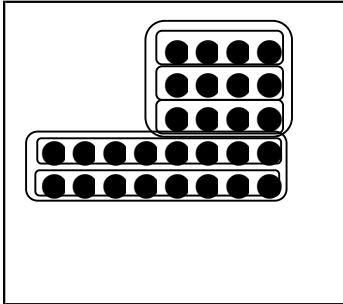


もんだい②

2年組 名前 _____


- 1 ●の数は、ぜんぶで 何こ あるか しきを たてました。
あう ものを 線で むすびましょう。



●

●

$$7 \times 4 = 28$$



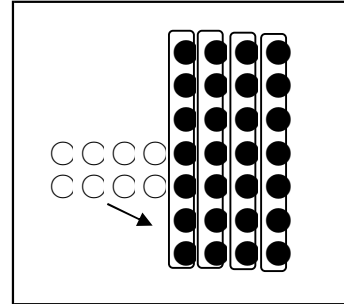
●

●

$$4 \times 3 = 12$$

$$8 \times 2 = 16$$

$$12 + 16 = 28$$



●

●

$$8 \times 5 = 40$$

$$4 \times 5 = 12$$

$$40 - 12 = 28$$

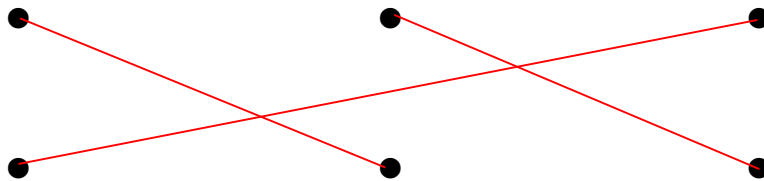
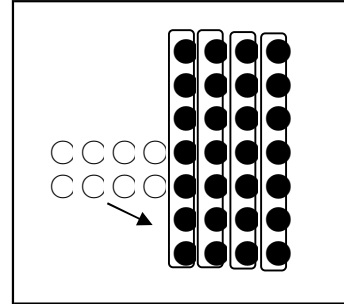

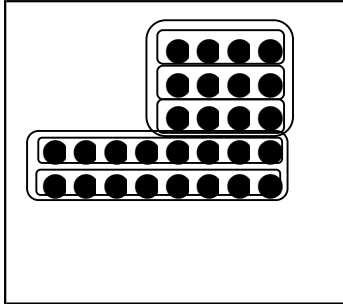
- 2 ●の数は、ぜんぶで 何こ あるか しきを たてました。
しきを 見て、どのように もとめたか、図に かきましょう。

$$6 \times 3 = 18$$

$$5 \times 4 = 20$$

$$5 \times 5 = 25$$

1 ●の数は、ぜんぶで 何こ あるか しきを たてました。
あう ものを 線で むすびましょう。



$7 \times 4 = 28$

$4 \times 3 = 12$
 $8 \times 2 = 16$
 $12 + 16 = 28$

$8 \times 5 = 40$
 $4 \times 5 = 20$
 $40 - 20 = 20$

2 ●の数は、ぜんぶで 何こ あるか しきを たてました。
しきを 見て、どのように もとめたか、図に かきましょう。

$6 \times 3 = 18$

$5 \times 4 = 20$

$5 \times 5 = 25$

正解は1つとは限らない。