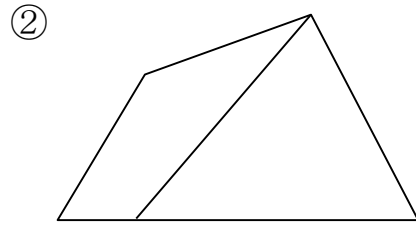
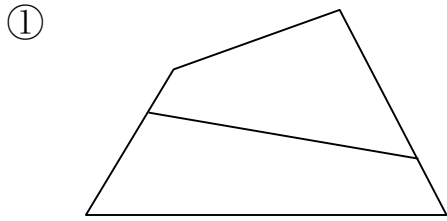
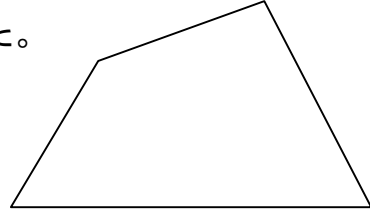


三角形と四角形④

年 組 名前 \_\_\_\_\_

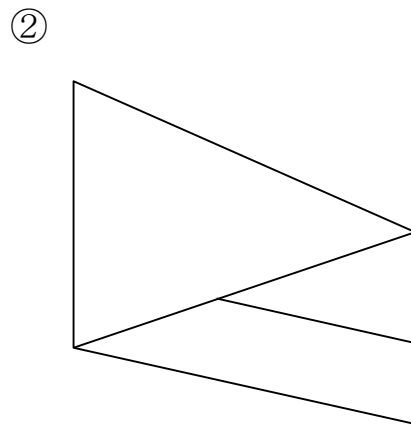
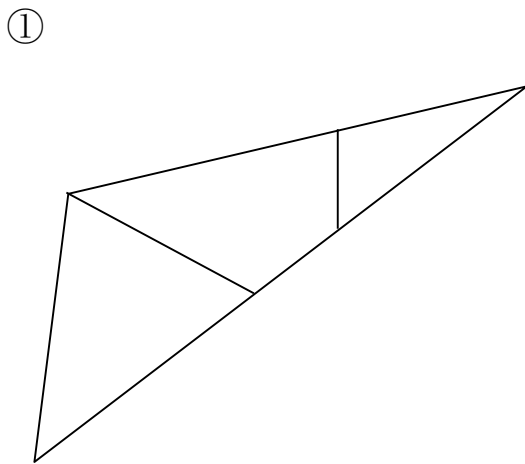
1 右の 四角形を 2つに 分けました。  
どんな 形が できましたか。



と

と

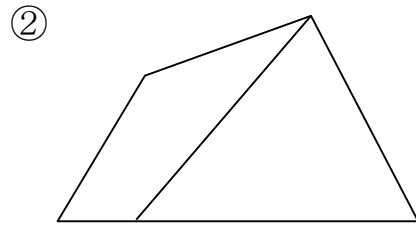
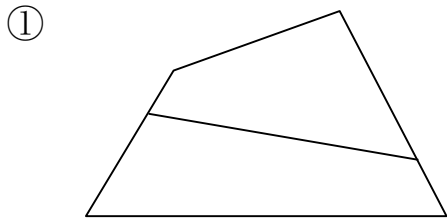
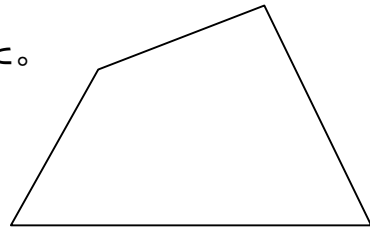
2 三角形や 四角形を 組み合わせて、形を つくりました。  
どんな 形が できましたか。



三角形と四角形④

名前 答え

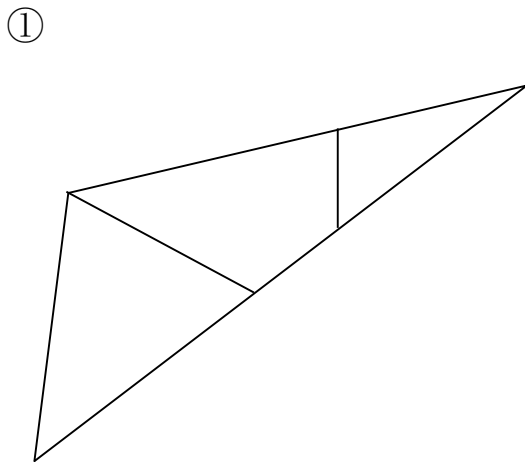
1 右の 四角形を 2つに 分けました。  
どんな 形が できましたか。



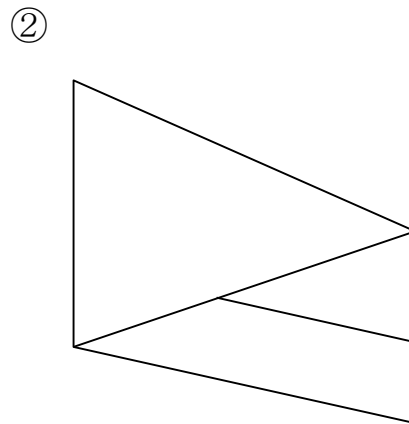
四角形 と 四角形

四角形 と 三角形  
ぎやくでも よい。

2 三角形や 四角形を 組み合わせて、形を つくりました。  
どんな 形が できましたか。



三角形



四角形