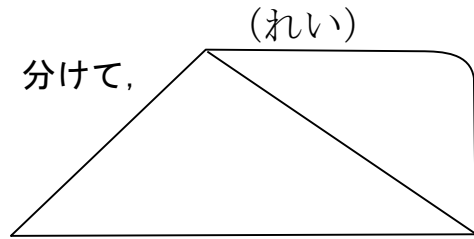


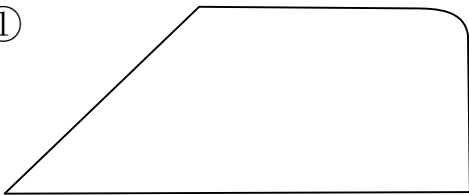
年 組 名前 _____

◆ 右の形を直線で2つに分けて、
できた形をかきましょう。
(三角形か四角形かそのた)



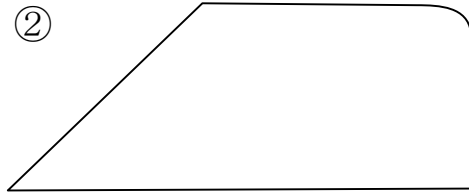
三角形 と そのた

①



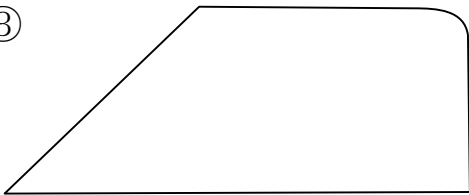
と

②



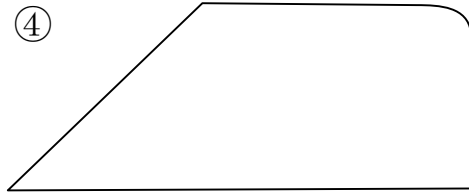
と

③



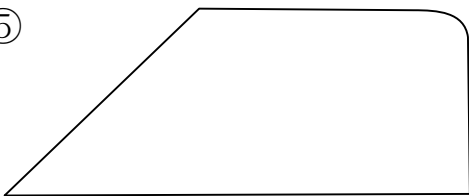
と

④



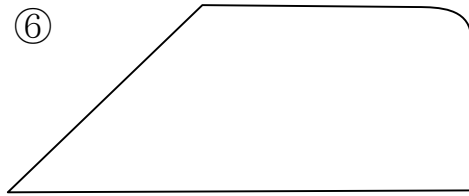
と

⑤



と

⑥



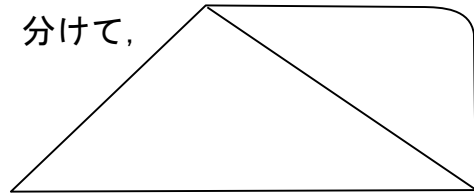
と

三角形と四角形⑤

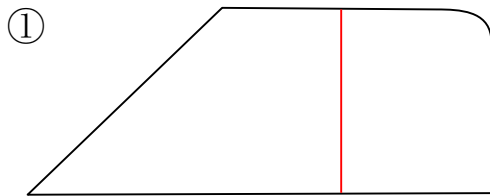
名前 答え

◆ 右の形を直線で2つに分けて、
できた形をかきましょう。
(三角形か四角形かそのた)

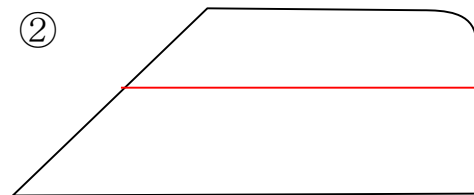
(れい)



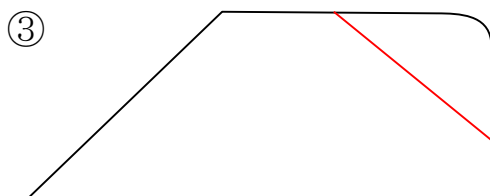
三角形 と そのた



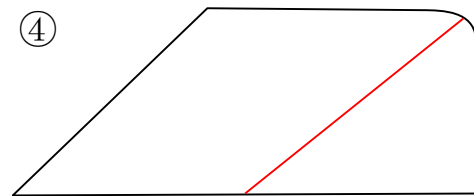
四角形 と そのた



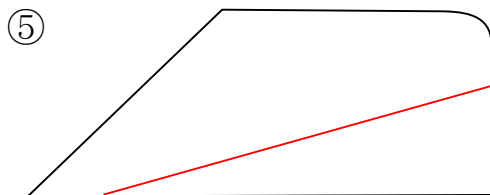
四角形 と そのた



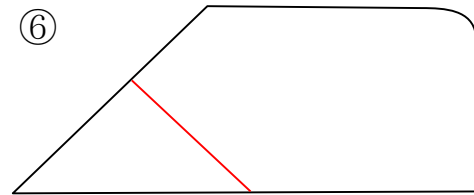
そのた と そのた



そのた と そのた



三角形 と そのた



三角形 と そのた