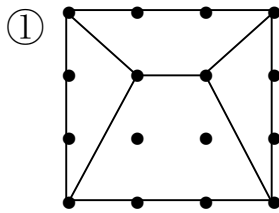
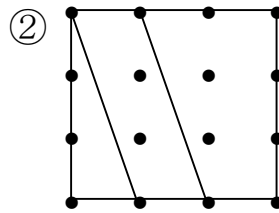
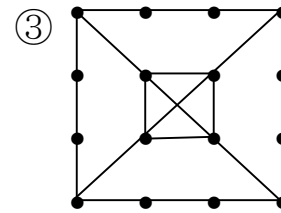
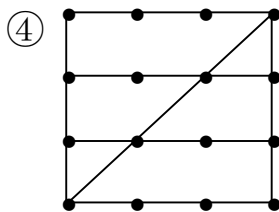
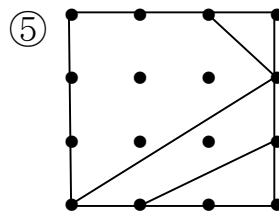
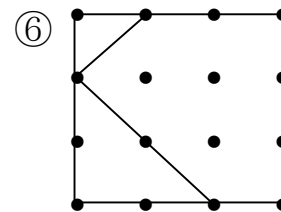
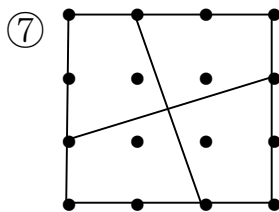
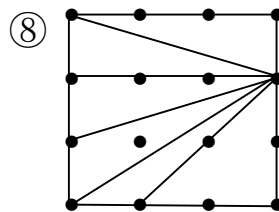
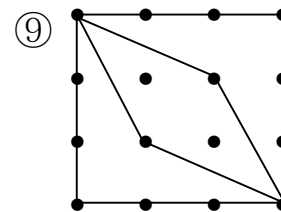


年 組 名前 _____

- ◆ 点と 点を むすんで 形を 作り, 切りとります。
 三角形と 四角形は, それぞれ 何まい できますか。

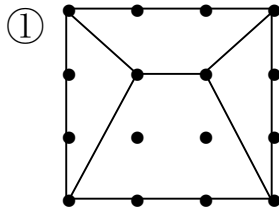
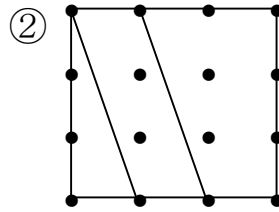
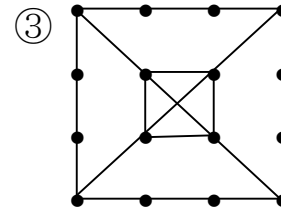
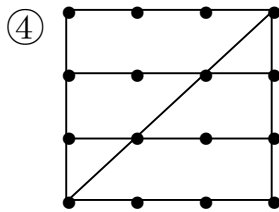
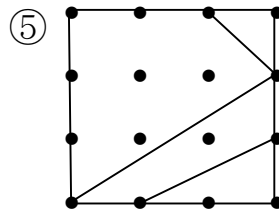
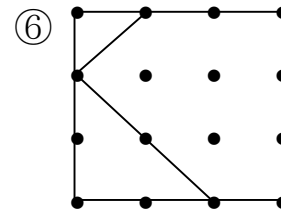
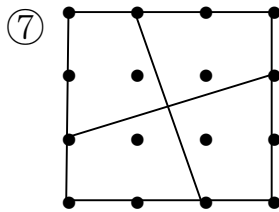
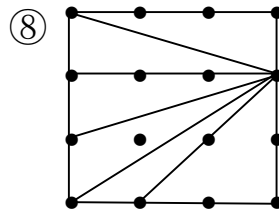
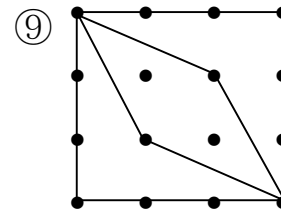
三角形 まい四角形 まい三角形 まい四角形 まい三角形 まい四角形 まい三角形 まい四角形 まい三角形 まい四角形 まい三角形 まい四角形 まい三角形 まい四角形 まい三角形 まい四角形 まい三角形 まい四角形 まい

三角形と四角形⑥

No. 1

名前 答え

- ◆ 点と 点を むすんで 形を 作り、切りとります。
 三角形と 四角形は、それぞれ 何まい できますか。

三角形 まい四角形 まい三角形 まい四角形 まい三角形 まい四角形 まい三角形 まい四角形 まい三角形 まい四角形 まい三角形 まい四角形 まい三角形 まい四角形 まい三角形 まい四角形 まい三角形 まい四角形 まい