

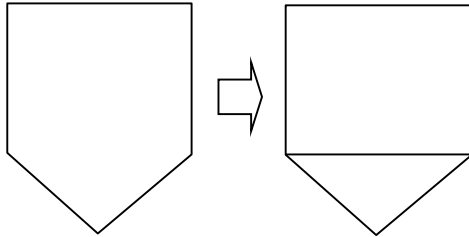
長方形と正方形③

No. 1


年 組 名前 _____

◆つぎの形に 直線を 1本 かいて、長方形を つくりましょう。

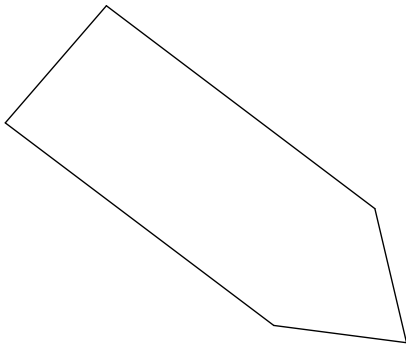
(れい)



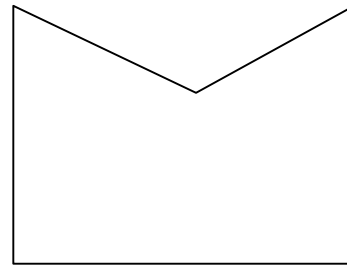
①



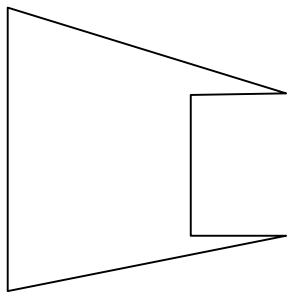
②



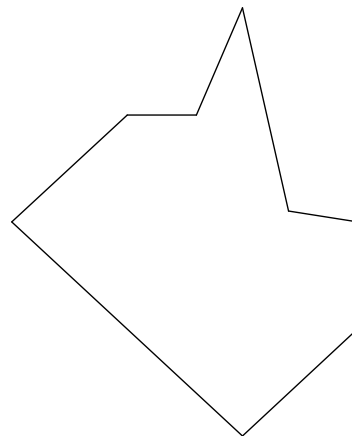
③



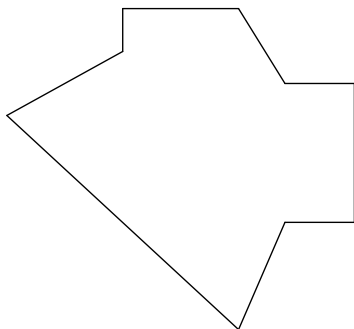
④




⑤



⑥



⑦



長方形と正方形③

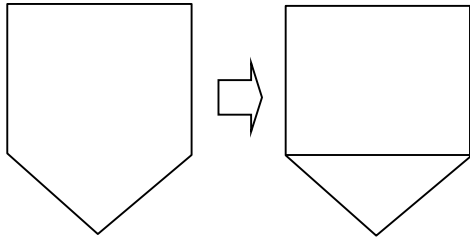
No. 1

答え

名前 _____

◆つぎの形に 直線を 1本 かいて、長方形をつくりましょう。

(れい)



※ ちょう点とちょう点をむすんだ

① ものだけ のせました。

