

長方形と正方形⑥

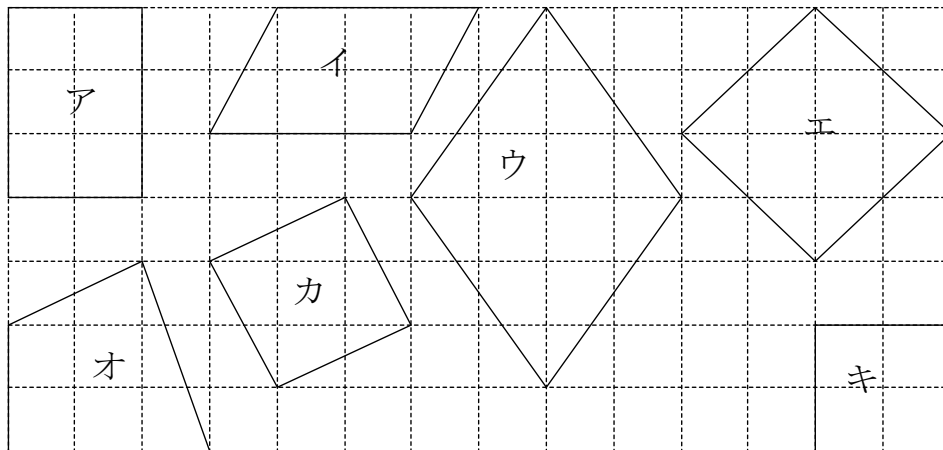
No. 1

年 組 名前 _____

1 に あてはまる ことばを 入れましょう。


4つの かどが、みんな 直角で、4つの へんの 長さが
みんな 同じに なって いる 四角形を、 と
いいます。

2 正方形は、どれですか。



答え

3 正方形を、3つ かきましょう。



長方形と正方形⑥

No. 1

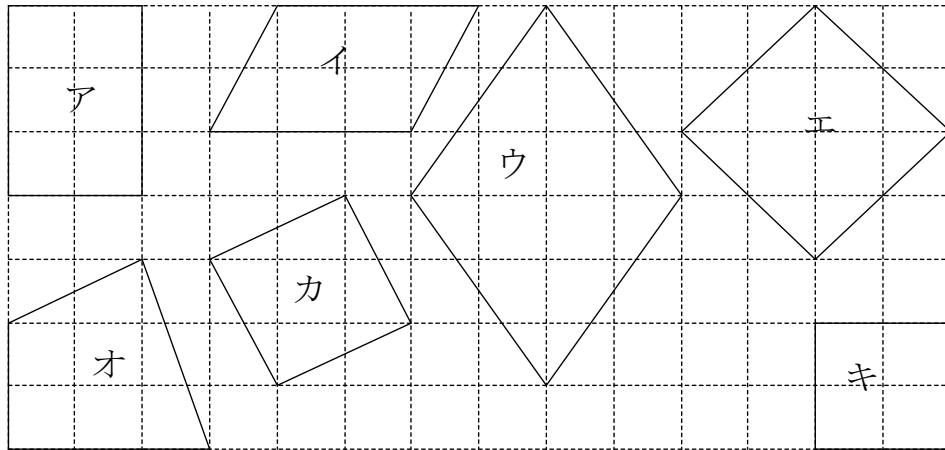
答え

名前

1 に あてはまる ことばを 入れましょう。

4つの かどが、みんな 直角で、4つの へんの 長さが
みんな 同じに なって いる 四角形を、 と
いいます。

2 正方形は、どれですか。



答え

エ, カ, キ

3 正方形を、3つ かきましょう。

(れい)

