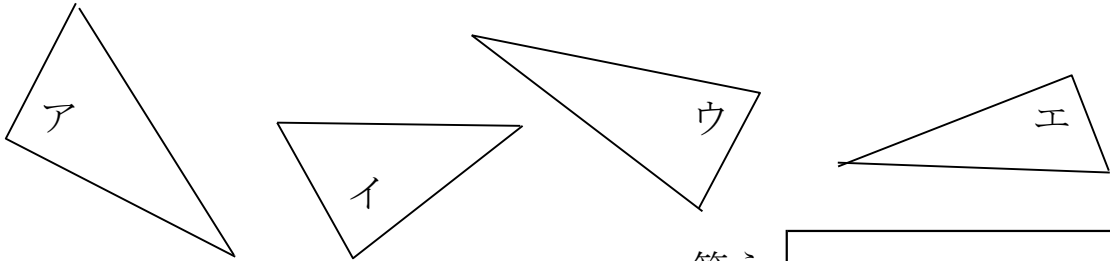


長方形と正方形⑨

No. 1

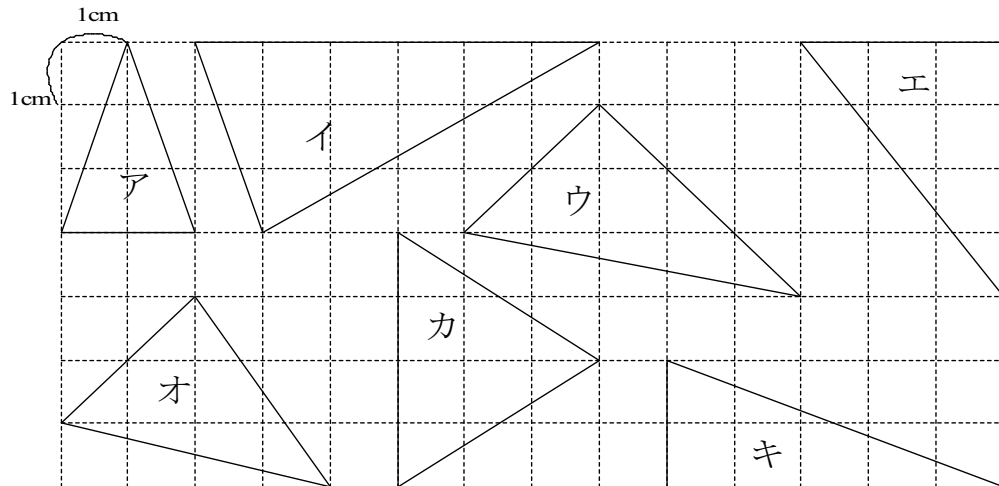
年 組 名前 _____

1 直角三角形は どれですか。三角じょうぎを つかって、すべてさがしましょう。



答え

2 直角三角形は どれですか。



答え

3 に あてはまる ことばを 入れましょう。

直角の かどが ある 三角形を, と
いいます。

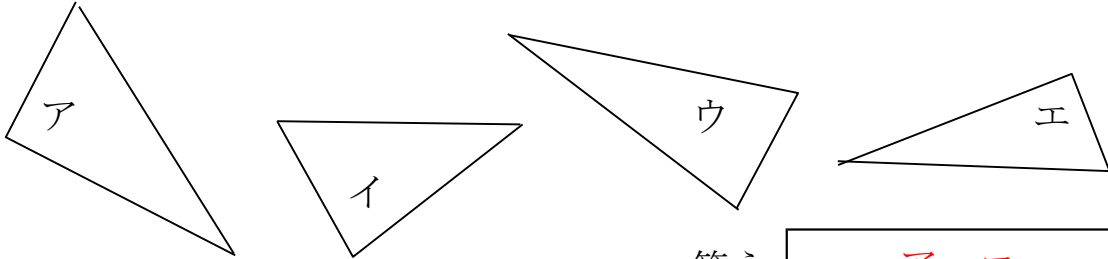
長方形と正方形⑨

No. 1

答え

名前

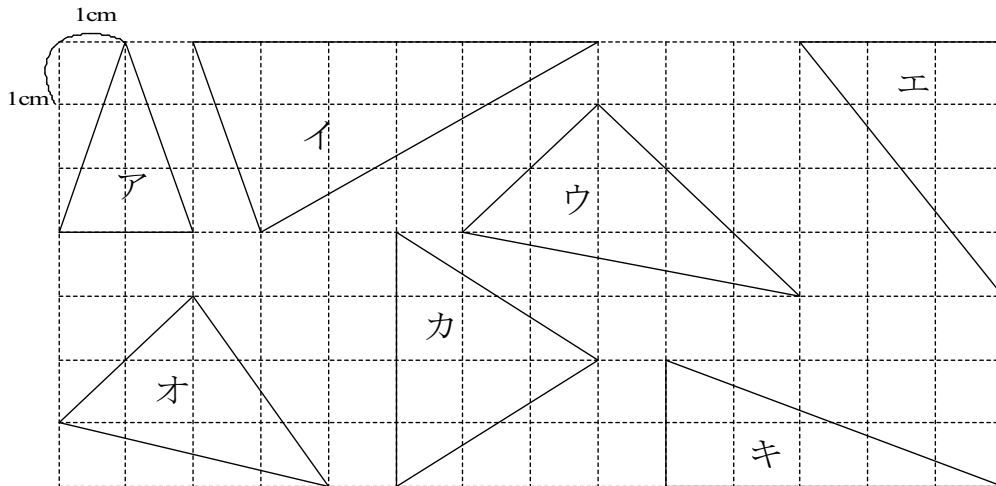
1 直角三角形は どれですか。三角じょうぎを つかって、すべてさがしましょう。



答え

ア, エ

2 直角三角形は どれですか。



答え

ウ, エ, キ

3 に あてはまる ことばを 入れましょう。

直角の かどが ある 三角形を, と
いいます。