

年 組 名前 \_\_\_\_\_

◆ もんだいを 読んで, その ようすを テープ図で あらわしましょう。

- 1 チョコが 何こか あります。17 こ くばったので、  
のこりが 20 こに なりました。チョコは、はじめ 何こ  
ありましたか。

テープ図



- 2 アイスが 何こか あります。16 こ たべたので、  
のこりが 15 こに なりました。アイスは、はじめ 何こ  
ありましたか。

テープ図

- 3 いちごが 何こか あります。11 こ 買って きたので、  
ぜんぶで 25 こに なりました。いちごは、はじめ 何こ  
ありましたか。

テープ図

- 4 かごに みかんが 13 こ 入っています。そこへ、何こか  
みかんを 入れたので、ぜんぶで 31 こに なりました。  
あとから 入れた みかんは 何こ ですか。

テープ図

## たし算とひき算⑤ まとめ(1)

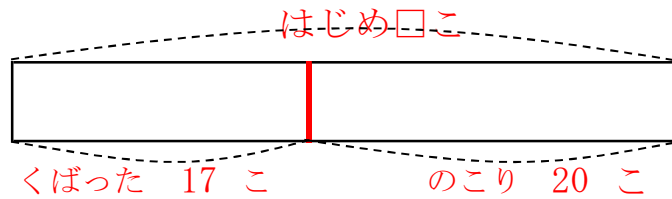
No. 1

年 組 名前 \_\_\_\_\_

◆ もんだいを 読んで, その ようすを テープ図で あらわしましょう。

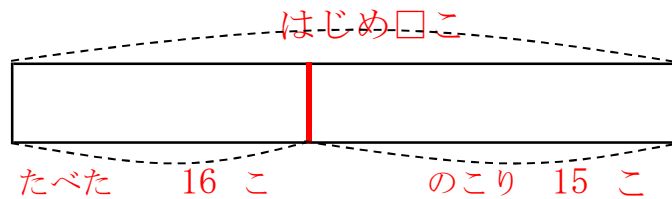
- 1 チョコが 何こか あります。17 こ くばったので, のこりが 20 こに なりました。チョコは, はじめ 何こ ありましたか。

テープ図



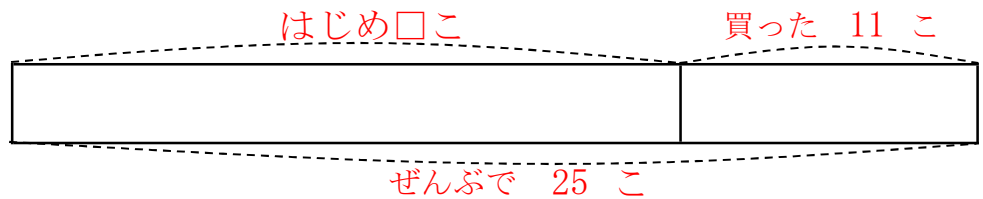
- 2 アイスが 何こか あります。16 こ たべたので, のこりが 15 こに なりました。アイスは, はじめ 何こ ありましたか。

テープ図



- 3 いちごが 何こか あります。11 こ 買って きたので, ぜんぶで 25 こに なりました。いちごは, はじめ 何こ ありましたか。

テープ図



- 4 かごに みかんが 13 こ 入っています。そこへ, 何こか みかんを 入れたので, ぜんぶで 31 こに なりました。あとから 入れた みかんは 何こ ですか。

テープ図

