

年 組 名前

◆ もんだいを 読んで, その ようすを テープ図で あらわしましょう。

- 1 校でいて, 子どもが 何人か あそんで います。  
そのうち 女の子は 14 人で, 男の子は 20 人です。  
先生は 3人 います。  
子どもは 何人 あそんでいますか。

テープ図

- 2 子どもが 何人か あそんで いました。そこへ 子どもが  
26 人 きたので, ぜんぶで 56 人になりました。  
男の子は 18 人 います。  
子どもは, はじめ 何人 いましたか。

テープ図

- 3 リボンが 74 cm ありました。何cmか ともだちに  
あげたら 57 cmに になりました。  
ともだちに あげた リボンは, 何cmですか。

テープ図

- 4 テープが 何cmか あります。 19 cm 切ったので  
のこりが 61 cmに になりました。のこりの テープの うち  
12 cmは 赤く ぬられています。  
テープは, はじめ 何cm ありましたか。

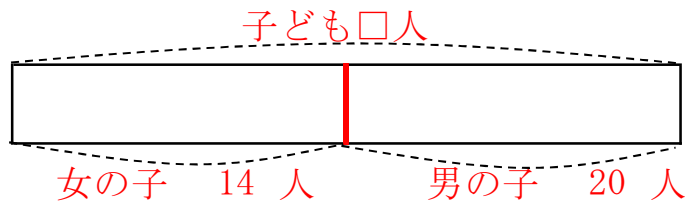
テープ図

年 組 名前 \_\_\_\_\_

◆ もんだいを 読んで、その ようすを テープ図で あらわしましょう。

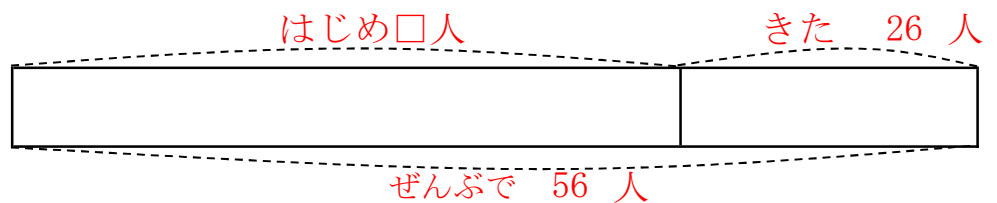
- 1 校でいて、子どもが 何人か あそんで います。  
 そのうち 女の子は 14 人で、男の子は 20 人です。  
 先生は 3人 います。  
 子どもは 何人 あそんでいますか。

テープ図



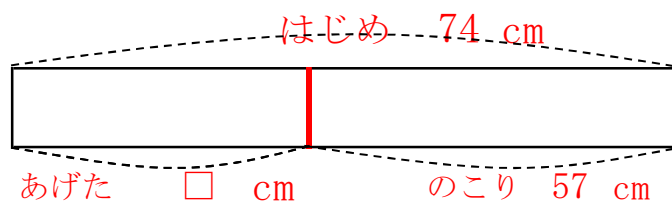
- 2 子どもが 何人か あそんで いました。そこへ 子どもが 26 人 きたので、ぜんぶで 56 人になりました。  
 男の子は 18 人 います。  
 子どもは、はじめ 何人 いましたか。

テープ図



- 3 リボンが 74 cm ありました。何cmか ともだちに あげたら 57 cmに なりました。  
 ともだちに あげた リボンは、何cmですか。

テープ図



- 4 テープが 何cmか あります。19 cm 切ったので のこりが 61 cmに なりました。のこりの テープの うち 12 cmは 赤く ぬられています。  
 テープは、はじめ 何cm ありましたか。

テープ図

