

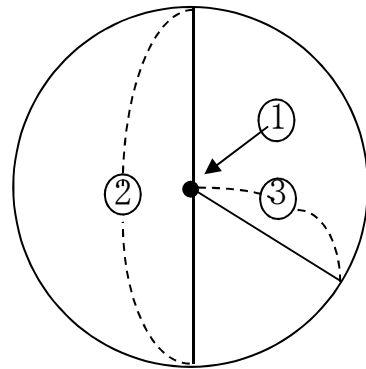
年 組 名前 \_\_\_\_\_

◆ ①～③の名前を書きましょう。

①

②

③



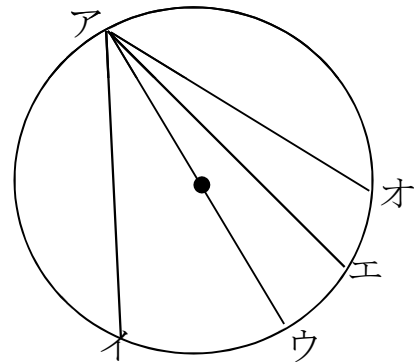
◆ □にあてはまることばや数を書きましょう。

④ 円の直径の長さは、 の2倍です。

⑤ 直径は、円の  を通ります。

⑥ 直径が 12 c mの円をかくには、コンパスを  c mひらきます。

⑦ 右の円の中にひいた直線の中で、いちばん長い直線は  です。



◆ 半径 5 c mの円をかきましょう。

答え

名前 \_\_\_\_\_

◆①～③の名前を書きましょう。

①

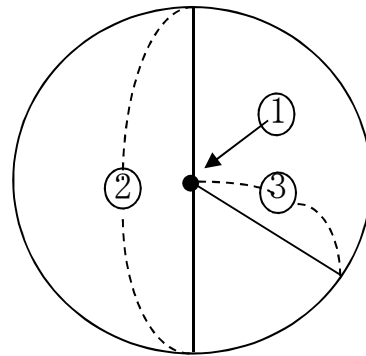
中心

②

直径

③

半径



◆□にあてはまることばや数を書きましょう。

④

円の直径の長さは、半径の2倍です。

⑤

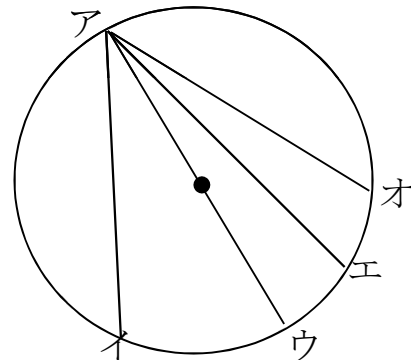
直径は、円の中心を通ります。

⑥

直径が 4 cmの円をかくには、コンパスを 2 cmひらきます。

⑦

右の円の中にひいた直線の中で、いちばん長い直線はアウです。



◆

半径 5 cmの円をかきましょう。