

物のとけ方 No. 2 の ()

① 右のAの器具で水の体積を量ります。 (10点×4)

① Aの器具の名前を書きましょう。
()

② 50mLの水を量るとき、始めに入れる水の量は、「50」の目盛りより、少し上・少し下のどちらですか。

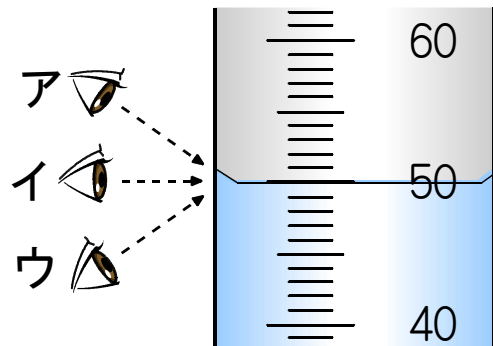
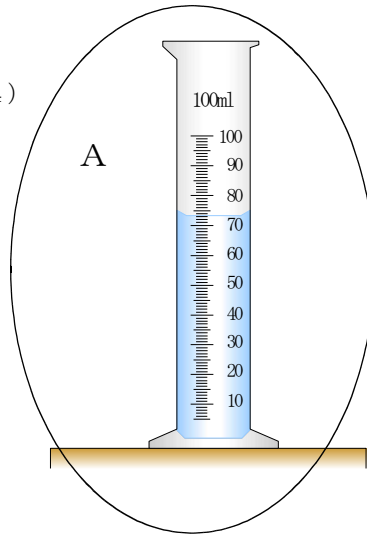
()

③ Aの器具で水を量るとき、最後に水面を目盛りに合わせるために必要な器具の名前を書きましょう。

()

④ 目もりを読みとるとき目の位置で正しいのは、ア～ウのどれですか。

()




② 水よう液なら○、水よう液でないなら×を書きましょう。 (10点×2)

() 小麦粉を水に入れてかき混ぜたら、白くにごった液になった。

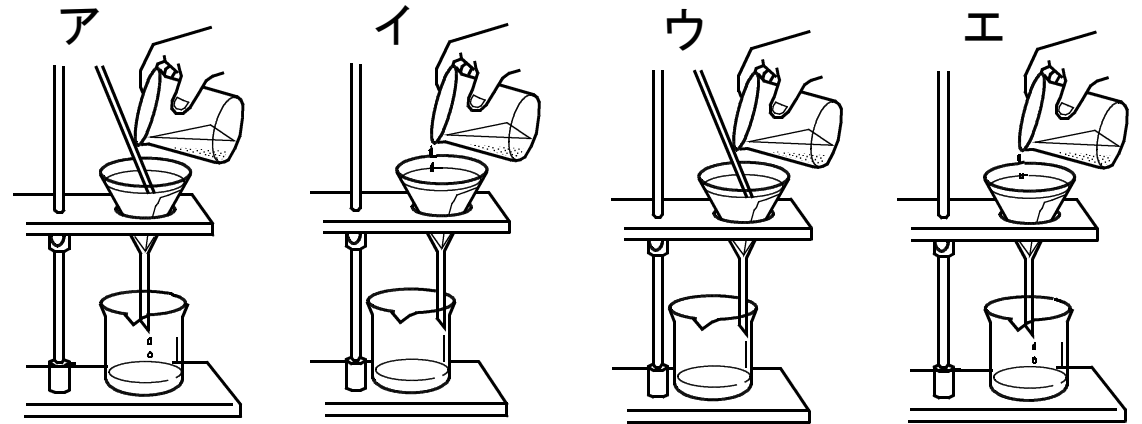
() コーヒーシュガーを水に入れてかき混ぜたら、茶色になり、すき通った液になった。

③ ろ紙のつけ方として、正しいのは、A・Bのどちらですか。 10点



()

④ ろ過の方法として、正しいのは、ア～エのどれですか。 10点



()

⑤ 水50gに砂糖20gを加えてかき混ぜたら、砂糖が全部とけました。

できた水よう液の重さは何gでしょう。 10点

() g

⑥ 100mLの水に砂糖を入れてはかき混ぜ、入れてはかき混ぜ…をくり返すと、やがてとけ残りが出ますか。 10点

()

物のとけ方 No. 2 の (答え)

① 右のAの器具で水の体積を量ります。 (10点×4)

② Aの器具の名前を書きましょう。

(**メスシリンダー**)

③ 50mLの水を量るとき、始めに入れる水の量は、「50」の目盛りより、少し上・少し下のどちらですか。

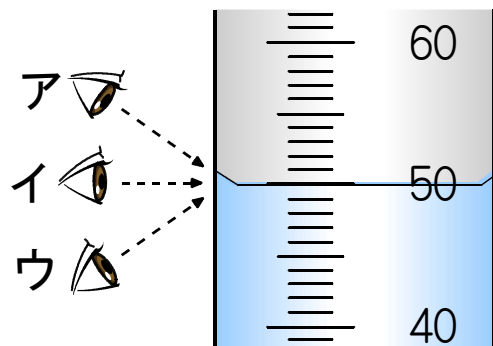
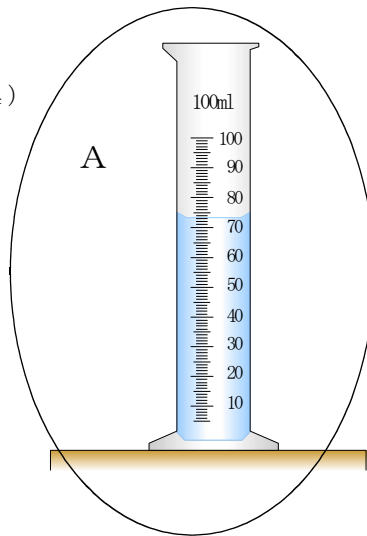
(**少し下**)

④ Aの器具で水を量るとき、最後に水面を目盛りに合わせるために必要な器具の名前を書きましょう。

(**スポイト**)

④ 目もりを読みとるとき目の位置で正しいのは、ア～ウのどれですか。

(**イ**)

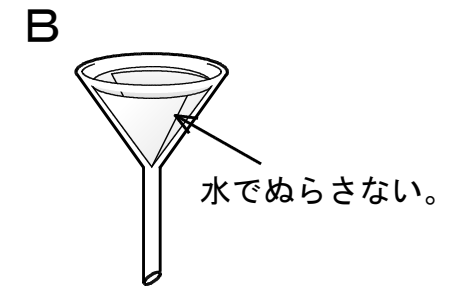
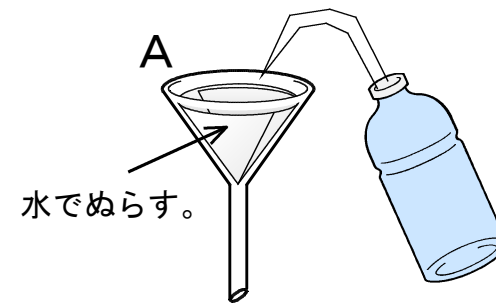


② 水よう液なら○、水よう液でないなら×を書きましょう。 (10点×2)

(**×**) 小麦粉を水に入れてかき混ぜたら、白くにごった液になった。

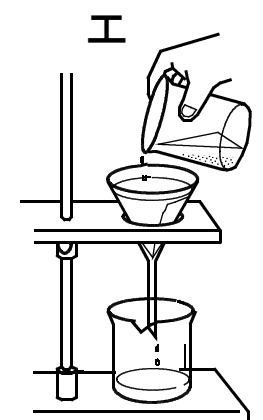



(**○**) コーヒーシュガーを水に入れてかき混ぜたら、茶色になり、すき通った液になった。

③ ろ紙のつけ方として、正しいのは、A・Bのどちらですか。 10点



(**A**)

④ ろ過の方法として、正しいのは、ア～エのどれですか。 10点



(**ウ**)

⑤ 水50gに砂糖20gを加えてかき混ぜたら、砂糖が全部とけました。

できた水よう液の重さは何gでしょう。 10点

(**70 g**)

⑥ 100mLの水に砂糖を入れてはかき混ぜ、入れてはかき混ぜ…をくり返すと、やがてとけ残りが出ますか。 10点

(**出ます。**
(はい))