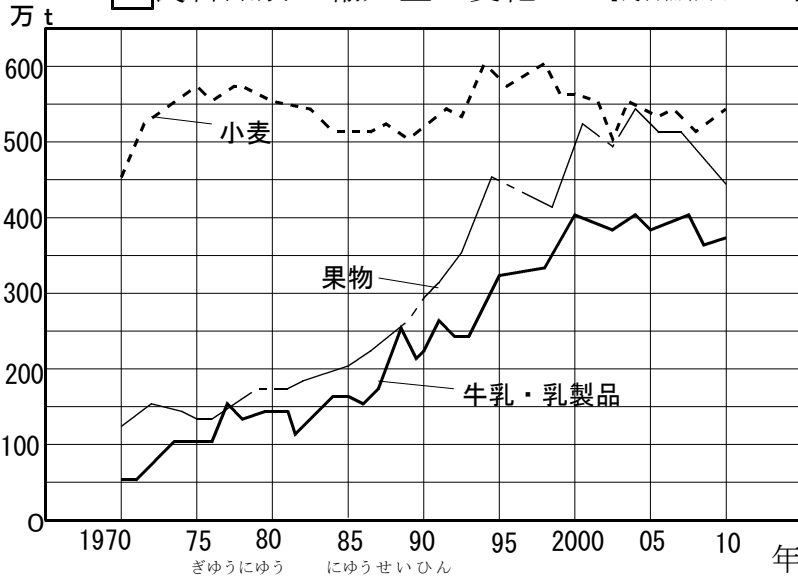


# これからの食料生産② の ( )

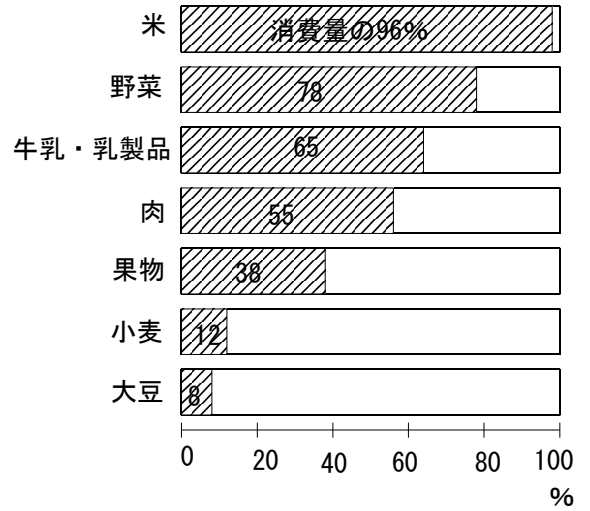
◆次の資料を見て、日本の食料生産について答えましょう。

10点×8

1 食料品別の輸入量の変化 【食料需給表による】



2 主な食料の自給率 【食料需給表による】



① 1970年の牛乳・乳製品の輸入量は、どれだけのですか。

(約 )

② 日本が外国から輸入している食料品の量は、どのように変化していますか。

( )

③ 食料自給率が90%をこえる食料は、何ですか。

( )

④ 大豆の自給率は、約何%ですか。

(約 )%

⑤ 食料品を外国にたよると、どんな心配が起きるでしょう。正しいものに○、正しくないものに×を( )に書きましょう。

- ( ) 輸入先の国で、天候の不順が起きると、日本へ輸出できなくなる。
- ( ) 輸入ばかりなので、消費者の食生活が貧弱になる。
- ( ) 突然の災害が輸入先で起きると、日本が輸出しなければならなくなる。
- ( ) 輸入品は安いので、日本のものが売れなくなる。

⑥ これからの食料生産について、大切なことは何ですか。食料自給率ということばを使って、あなたの考えを書きましょう。

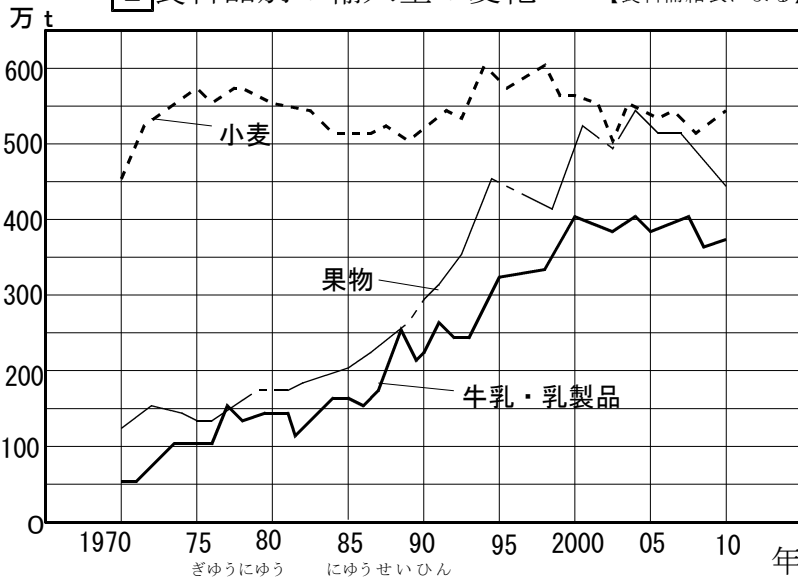
20点

これからの食料生産② の ( 答え )

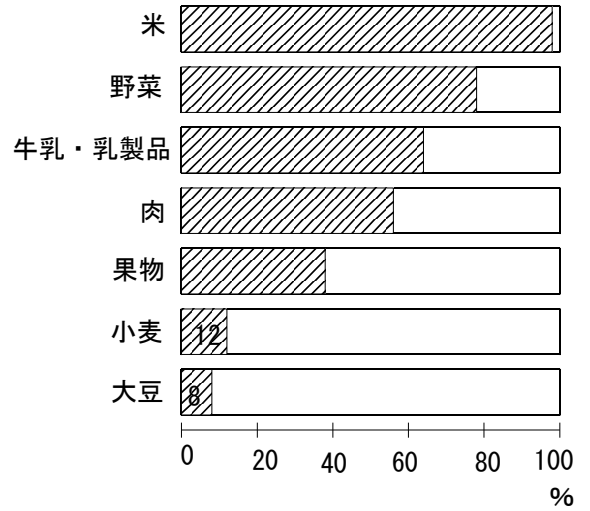
◆次の資料を見て、日本の食料生産について答えましょう。

10点×8

1 食料品別の輸入量の変化 【食料需給表による】



2 主な食料の自給率 【食料需給表による】



① 1970年の牛乳・乳製品の輸入量は、どれだけのですか。

( 約 50万t )

②日本が外国から輸入している食料品の量は、どのように変化していますか。

( 増えている。 )

③食料自給率が90%をこえる食料は、何ですか。

( 米 )

④大豆の自給率は、約何%ですか。

( 約 8 %) )

⑤食料品を外国にたよると、どんな心配が起きるでしょう。正しいものに○、正しくないものに×を( )に書きましょう。

- ( ○ ) 輸入先の国で、天候の不順が起きると、日本へ輸出できなくなる。
- ( × ) 輸入ばかりなので、消費者の食生活が貧弱になる。
- ( × ) 突然の災害が輸入先で起きると、日本が輸出しなければならなくなる。
- ( ○ ) 輸入品は安いので、日本のものが売れなくなる。

⑥これからの食料生産について、大切なことは何ですか。食料自給率ということばを使って、あなたの考えを書きましょう。

20点

**国内の食料生産を増やして、食料自給率を上げることが大切です。**