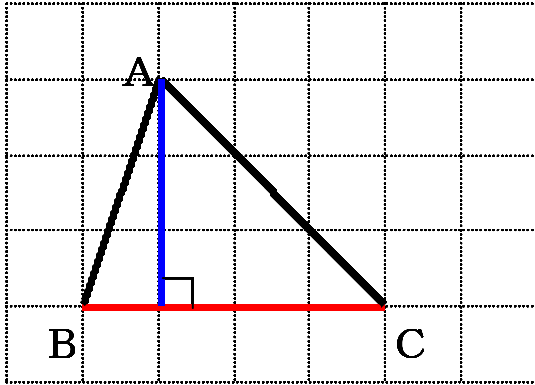
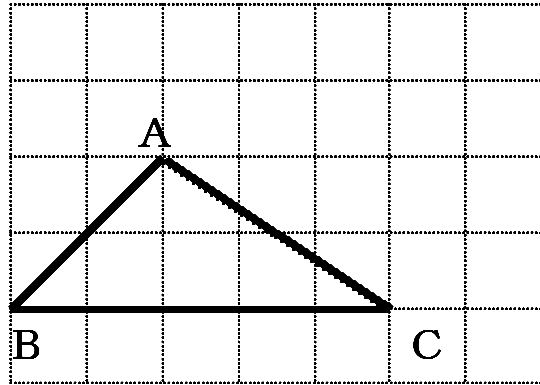


- 1 1つの辺BCを底辺としたとき、頂点Aから底辺をのびた直線に垂直にひいた直線の長さを高さといいます。
底辺は赤、高さは青で示しましょう。

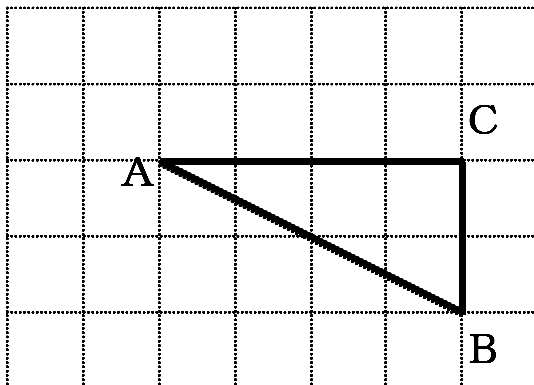
例 底辺が4cm、高さが3cmの三角形



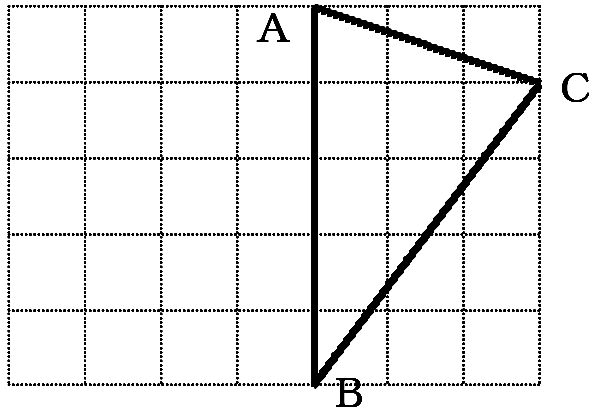
① 底辺が5cm、高さが2cmの三角形



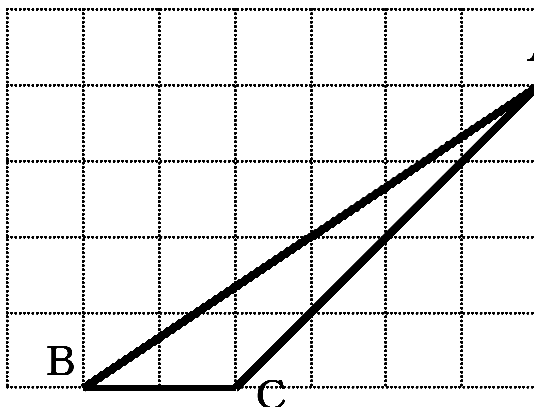
② 底辺が2cm、高さが4cmの三角形



③ 底辺が5cm、高さが3cmの三角形



④ 底辺が2cm、高さが4cmの三角形



⑤ 底辺が3cm、高さが5cmの三角形

