

割合のグラフ⑤

No. 9

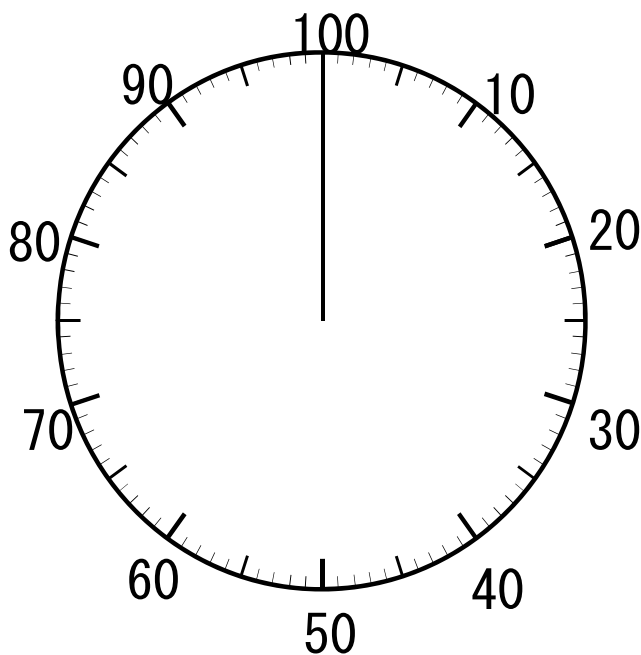
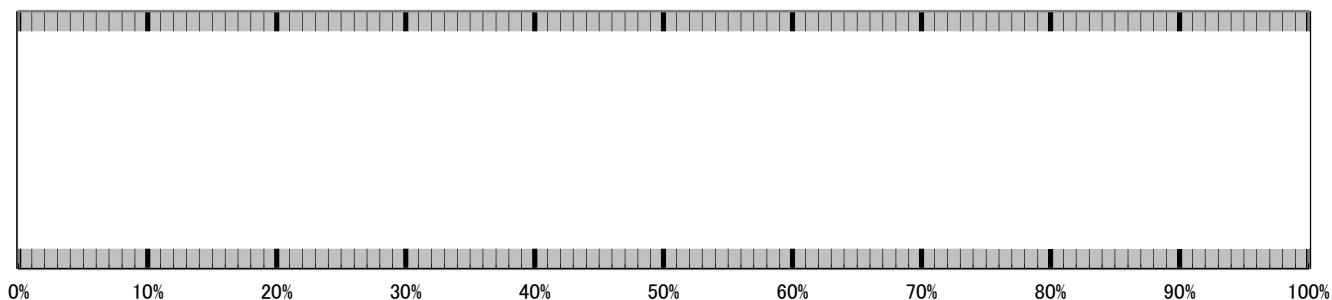
年 組 名前

- ◆ 下の表は、めぐみさんの学校で、好きなくだものについてまとめたものです。これを帯グラフと円グラフに表しましょう。

好きなくだもの

種類	りんご	バナナ	ぶどう	みかん	合計
人数(人)	105	90	60	45	300

好きなくだもの



- ① りんごの好きな人は何%ですか。

式

- ② バナナの好きな人は何%ですか。

式

- ③ ぶどうの好きな人は何%ですか。

式

- ④ みかんの好きな人は何%ですか。

式

割合のグラフ⑤

答え

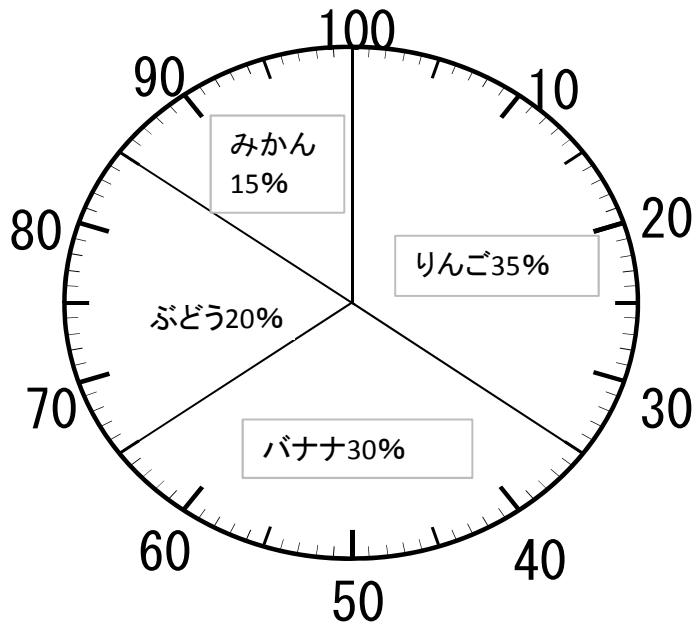
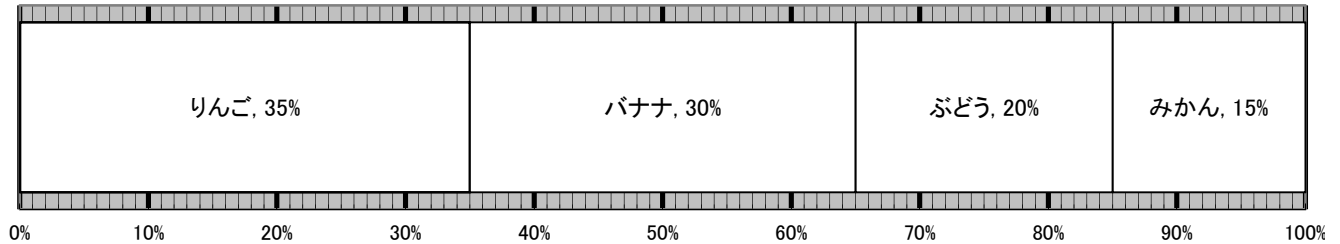
名前 _____

- ◆ 下の表は、めぐみさんの学校で、好きなくだものについてまとめたものです。これを帯グラフと円グラフに表しましょう。

好きなくだもの

種類	りんご	バナナ	ぶどう	みかん	合計
人数(人)	105	90	60	45	300

好きなくだもの



- ① りんごの好きな人は何%ですか。

式 $105 \div 300 = 0.35$

35%

- ② バナナの好きな人は何%ですか。

式 $90 \div 300 = 0.3$

30%

- ③ ぶどうの好きな人は何%ですか。

式 $60 \div 300 = 0.2$

20%

- ④ みかんの好きな人は何%ですか。

式 $45 \div 300 = 0.15$

15%

別解 $100 - (35 + 30 + 20) = 15$