

# 割合のグラフ⑤

No. 10

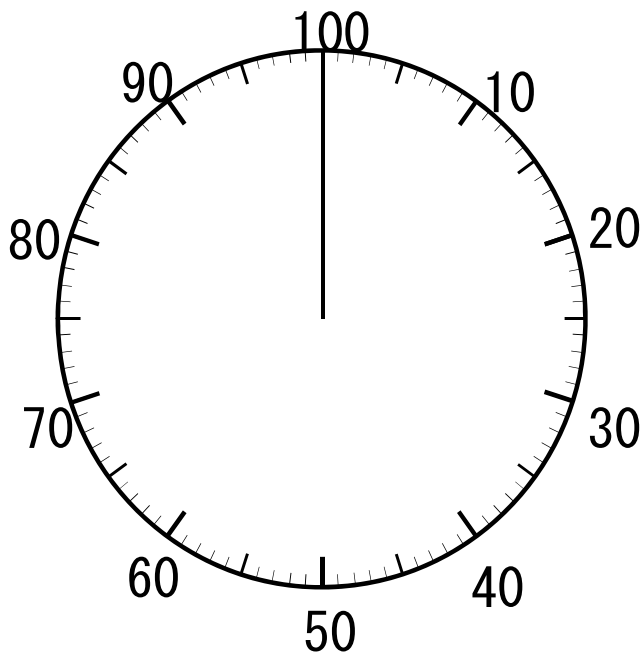
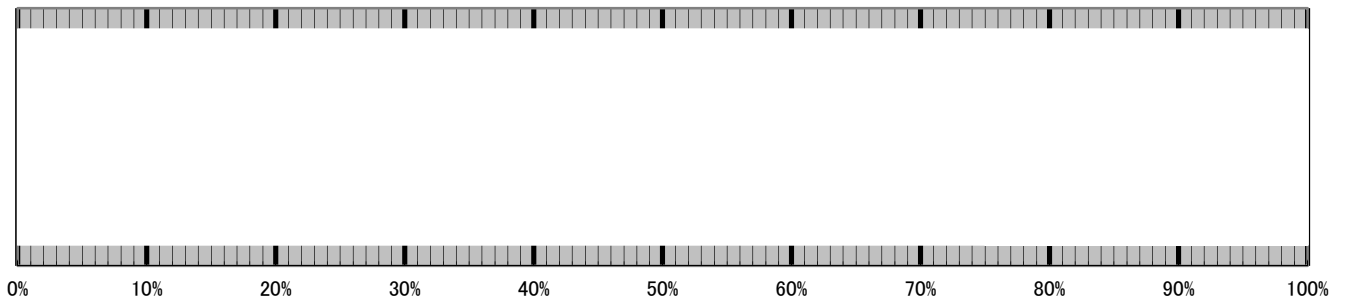
年 組 名前 \_\_\_\_\_

- ◆ 下の表は、めぐみさんの学校で、好きなくだものについてまとめたものです。これを帯グラフと円グラフに表しましょう。

好きなくだもの

種類	りんご	バナナ	ぶどう	みかん	合計
人数(人)	192	156	93	79	520

好きなくだもの



- ① りんごの好きな人は何%ですか。  
式
- ② バナナの好きな人は何%ですか。  
式
- ③ ぶどうの好きな人は何%ですか。  
式
- ④ みかんの好きな人は何%ですか。  
式

# 割合のグラフ⑤

No. 10

答え

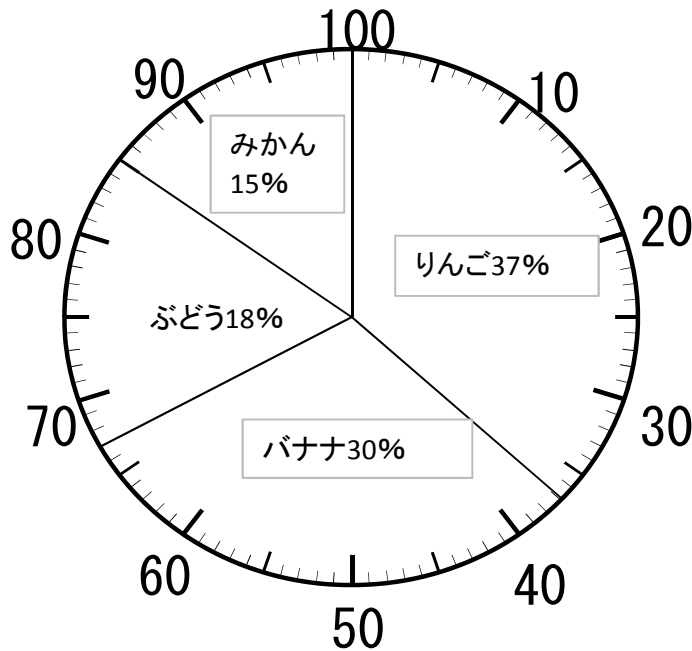
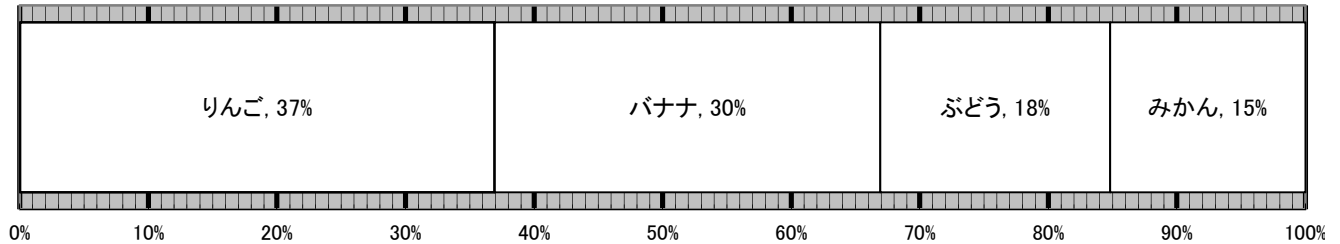
名前 \_\_\_\_\_

- ◆ 下の表は、めぐみさんの学校で、好きなくだものについてまとめたものです。これを帯グラフと円グラフに表しましょう。

好きなくだもの

種類	りんご	バナナ	ぶどう	みかん	合計
人数(人)	192	156	93	79	520

好きなくだもの



- ① りんごの好きな人は何%ですか。

式  $192 \div 520 = 0.369$

37%

- ② バナナの好きな人は何%ですか。

式  $156 \div 520 = 0.3$

30%

- ③ ぶどうの好きな人は何%ですか。

式  $93 \div 520 = 0.179$

18%

- ④ みかんの好きな人は何%ですか。

式  $79 \div 520 = 0.152$

15%

別解  $100 - (37 + 30 + 18) = 15$