

割合⑪

No. 21

年 組 名前

◆次の問題に答えましょう。筆算は消さないこと。 ①30点 ②30点 ③40点

① たかしさんは、2500 円のセーターを 35 %びきのねだんで買いました。

代金はいくらですか。

数直線

式

② まさえさんは、3400 円のゲームを 3 割引のねだんで買いました。

代金はいくらですか。

数直線

式

③ 1000 円の色えんぴつセットを買って、5 %の消費税をつけて代金をはらいまし

代金はいくらですか。

数直線

式

割合⑪

答え

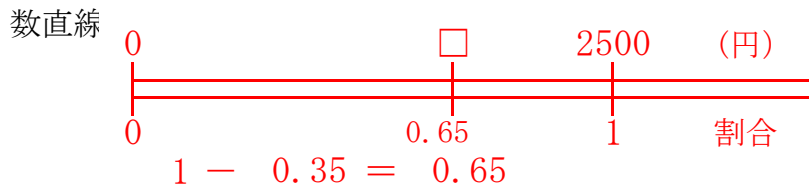
No. 21

名前 _____

◆次の問題に答えましょう。筆算は消さないこと。 ①30点 ②30点 ③40点

① たかしさんは、2500 円のセーターを 35 %びきのねだんで買いました。

代金はいくらですか。

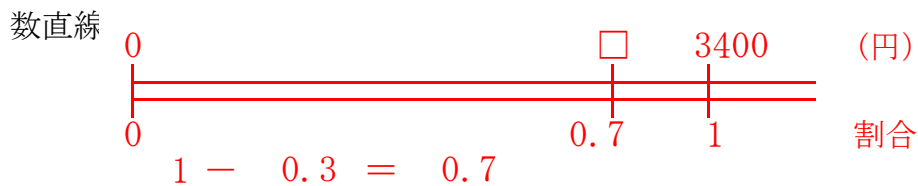


式 $2500 \times 0.65 = 1625$

1625 円

② まさえさんは、3400 円のゲームを 3 割引のねだんで買いました。

代金はいくらですか。

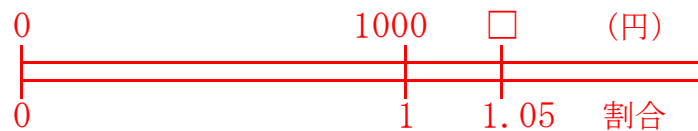


式 $3400 \times 0.7 = 2380$

2380 円

③ 1000 円の色えんぴつセットを買って、5%の消費税をつけて代金をはらいまし

代金はいくらですか。



式 $1000 \times 1.05 = 1050$

1050 円