

割合⑪

No. 22

年 組 名前

◆次の問題に答えましょう。筆算は消さないこと。 ①30点 ②30点 ③40点

① たかしさんは、2600 円のセーターを 45 %びきのねだんで買いました。

代金はいくらですか。

数直線

式

② まさえさんは、3500 円のゲームを 2 割引のねだんで買いました。

代金はいくらですか。

数直線

式

③ 1100 円の色えんぴつセットを買って、8%の消費税をつけて代金をはらいまし

代金はいくらですか。

数直線

式

割合⑪

答え

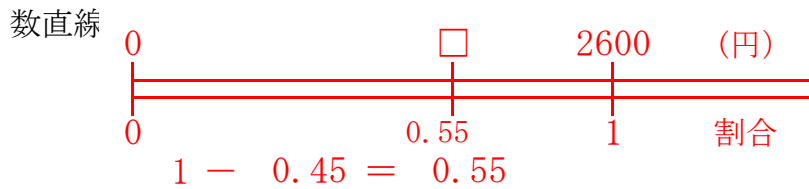
No. 22

名前 _____

◆次の問題に答えましょう。筆算は消さないこと。 ①30点 ②30点 ③40点

① たかしさんは、2600 円のセーターを 45 %びきのねだんで買いました。

代金はいくらですか。

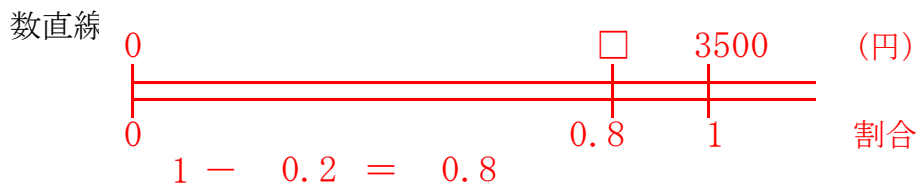


式 $2600 \times 0.55 = 1430$

1430 円

② まさえさんは、3500 円のゲームを 2 割引のねだんで買いました。

代金はいくらですか。

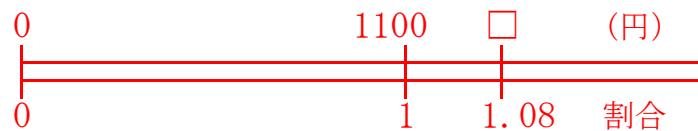


式 $3500 \times 0.8 = 2800$

2800 円

③ 1100 円の色えんぴつセットを買って、8%の消費税をつけて代金をはらいまし

代金はいくらですか。



式 $1100 \times 1.08 = 1188$

1188 円