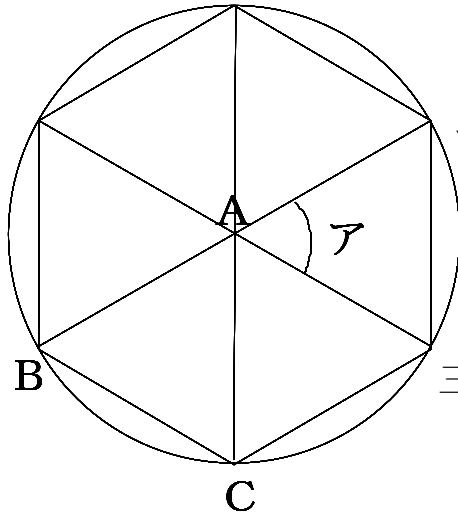


正多角形①

年 組 名前

◆ 正多角形をかきました。□にあてはまる言葉や式や答えを書きましょう。

①



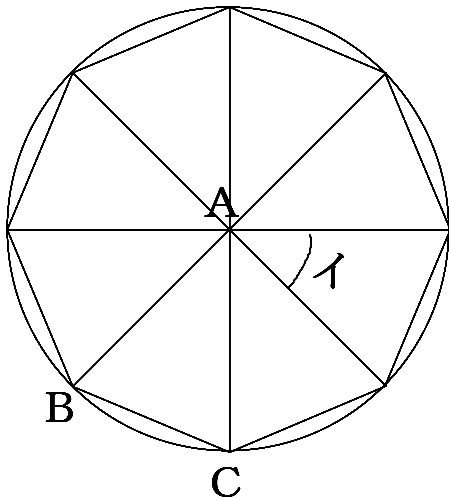
正多角形の名前

アの角度を求める式

アの角度

三角形ABCの名前

②



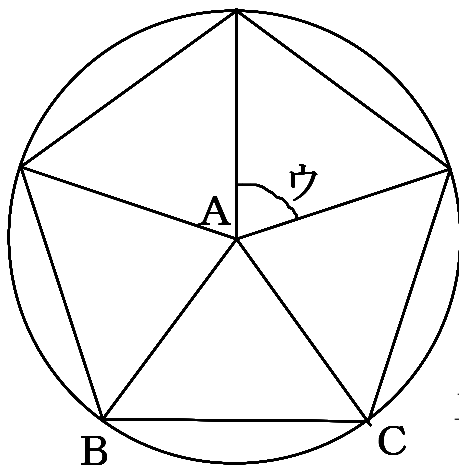
正多角形の名前

イの角度を求める式

イの角度

三角形ABCの名前

③



正多角形の名前

ウの角度を求める式

ウの角度

三角形ABCの名前

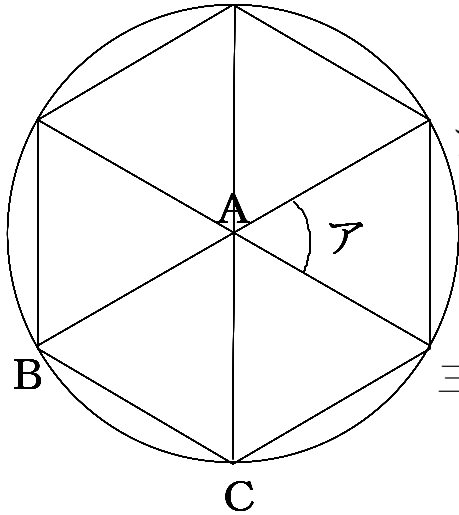
正多角形①

答え

名前

◆ 正多角形をかきました。□にあてはまる言葉や式や答えを書きましょう。

①



正多角形の名前

正六角形

アの角度を求める式

$360 \div 6$

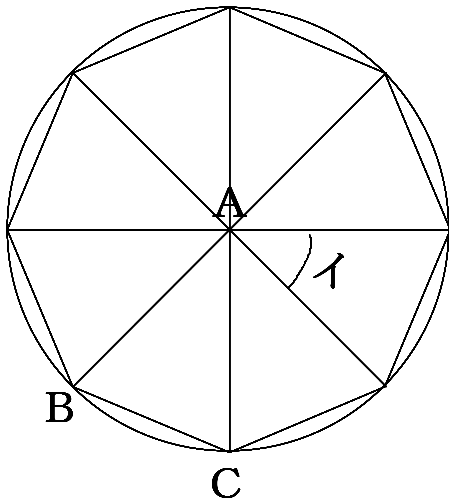
アの角度

60°

三角形ABCの名前

正三角形

②



正多角形の名前

正八角形

イの角度を求める式

$360 \div 8$

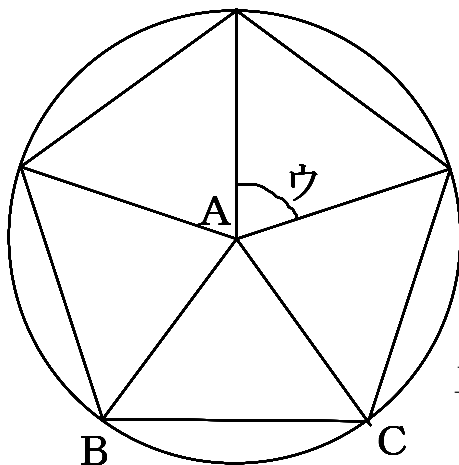
イの角度

45°

三角形ABCの名前

二等辺三角形

③



正多角形の名前

正五角形

ウの角度を求める式

$360 \div 5$

ウの角度

72°

三角形ABCの名前

二等辺三角形